



Szerb Köztársaság
OKTATÁSI MINISZTERIUM
OKTATÁSI ÉS NEVELÉSI
MINŐSÉGELLENŐRZŐ INTÉZET

A TANULÓ PÉLDÁNYA

FELADATOK AZ ÁLTALÁNOS ISKOLAI OKTATÁS ÉS NEVELÉS ZÁRÓVIZSGÁJÁRA

TESZT
FÖLDRAJZ

AZONOSÍTÓ NYOMTATVÁNY

A TANULÓ UTÓNEVE, EGYIK SZÜLŐ/TÖRVÉNYES KÉPVISELŐ UTÓNEVE, A TANULÓ VEZETÉKNEVE

A TANULÓ AZONOSÍTÓ SZÁMA

--	--	--	--	--	--	--	--	--	--

ÁLTALÁNOS ISKOLA _____

HELYSÉG _____

KÖZSÉG _____


AZ ÜGYELETES TANÁR ALÁÍRÁSA

A teszteredmények megtekinthetők a **Moja srednja škola**: <https://mojasrednjaskola.gov.rs> honlapon, az azonosító szám szükséges hozzá (a tanuló tíz számjegyű kódja). A beolvasott teszt Pdf-formátumban való letöltéséhez, ahol az érettségi tesztek eredménye érhető el, szükséges a teszt egyéni kódjának a beírása.

A teszt egyéni kódja: 170620260846

Amennyiben a szülőnek/törvényes képviselőnek van hozzáférése a **Moj esDnevnik** weboldalhoz, vagy hozzáférése van a **Portal za elektronsku identifikaciju eID.gov.rs** honlaphoz, melyen keresztül beléphet a **Moj esDnevnik** oldalra, ebben az esetben a teszteredményeken kívül hozzáférhet egyéb elektronikus szolgáltatásokhoz: fellebbbezhet az érettségi teszteredményét illetően, a kívánságlistát benyújthatja, valamint elektronikus úton iratkozhat a középiskolába.

UTASÍTÁS A MUNKÁHOZ

- A teszt **20 feladatot** tartalmaz, a megoldásra szánt idő **120 perc**.
- A feladatokat nem kötelező az adott sorrendben kitöltened.
- Munkád során használhatsz grafitceruzát, radírgumit, de számológépet és mobiltelefont nem.
- A végleges válaszodat írd át **kéken író golyóstollal**.
- Nem ismerjük el a grafitceruzával hagyott, illetve feketén író tollal és törölhető golyóstollal írt válaszokat.
- A lehetséges válaszokat felkínáló feladatokban nem ismerjük el a javított válaszokat.
- Amennyiben a lehetséges válaszok közül a helyes mellett helytelen választ is bejelölsz, 0 pontot kapsz.
- Figyelj arra, hogy a feladatok más-más válaszadást követelnek meg!
- Ne írd semmit a QR kódokra (), melyek minden oldalon megtalálhatók.

Egyes feladatokban úgy jelölöd meg a helyes választ, hogy befested a megfelelő köröcskét. Ott, ahol több helyes válasz lehetséges, több köröcskét festesz be. Ügyelj arra, hogy a köröcske be legyen festve, ugyanis csak akkor lesz a válaszdod elfogadva!

A BEFESTETT KÖRÖCSKÉK MINTÁJA	
Feladat egy helyes válasszal	
Melyik a Szerb Köztársaság fővárosa? Fesd be a helyes válasz előtti köröcskét!	
<input type="radio"/>	Újvidék
<input checked="" type="radio"/>	Belgrád
<input type="radio"/>	Niš
<input type="radio"/>	Kruševac
Feladat több helyes válasszal	
Fesd be a válaszok előtti köröcskét, melyek összege 5!	
<input checked="" type="radio"/>	2 + 3
<input type="radio"/>	1 + 2
<input checked="" type="radio"/>	4 + 1
<input type="radio"/>	2 + 4
<input type="radio"/>	3 + 5

- Amennyiben a feladatokkal előbb végzel, add át a tesztet, és csendben hagyd el a termet!

Sok sikert kívánunk!

FELADATOK AZ ÁLTALÁNOS ISKOLAI OKTATÁS ÉS NEVELÉS ZÁRÓVIZSGÁJÁRA
TESZT
FÖLDRAJZ

1. Melyik az alábbiak közül a keleti égtáj nemzetközi jelölése?
Fesd be a helyes válasz előtti köröcskét!
- ☐ N ☐ S ☐ E ☐ W
2. Mely domborzati formákat ábrázolják a térképeken a zöld szín különböző árnyalataival?
Fesd be a helyes válasz előtti köröcskét!
- ☐ hegyeket ☐ fennsíkokat ☐ alföldeket ☐ sivatagokat
3. Melyik a Naptól a legtávolabb elhelyezkedő bolygó?
Fesd be a helyes válasz előtti köröcskét!
- ☐ Szaturnusz ☐ Neptunusz ☐ Jupiter ☐ Uránusz
4. Hogy nevezzük a Földünk Nap körüli keringésének folyamatát?
Fesd be a helyes válasz előtti köröcskét!
- ☐ rotáció ☐ akkumuláció ☐ revolúció ☐ erózió
5. Melyek a Föld legnagyobb kiterjedésű vízfelületei?
Fesd be a helyes válasz előtti köröcskét!
- ☐ óceánok ☐ tengerek ☐ folyók ☐ tavak
6. Hogy nevezzük az átlagosan egy négyzetkilométerre jutó lakosok számát?
Fesd be a helyes válasz előtti köröcskét!
- ☐ népsűrűség ☐ természetes népszaporulat
- ☐ natalitás ☐ mortalitás
7. Melyik földrész népességében a legmagasabb a fiatalok aránya?
Fesd be a helyes válasz előtti köröcskét!
- ☐ Európa ☐ Afrika ☐ Észak-Amerika ☐ Ausztrália
8. Melyik tevékenység tartozik a gazdaság tercier szektorához?
Fesd be a helyes válasz előtti köröcskét!
- ☐ tudomány ☐ erdészet ☐ vendéglátás ☐ építőipar

9. Melyik kontinensen található Földünk legnépesebb állama?
Fesd be a helyes válasz előtti köröcskét!

☐ Észak-Amerikában ☐ Európában ☐ Afrikában ☐ Ázsiában

10. Melyik féltekén fekszik teljes területével Európa?
Fesd be a helyes válasz előtti köröcskét!

☐ északi ☐ déli ☐ keleti ☐ nyugati

11. Az északi féltekén melyik hónapra esik az év legrövidebb nappala?
Fesd be a helyes válasz előtti köröcskét!

☐ januárra ☐ júniusra ☐ szeptemberre ☐ decemberre

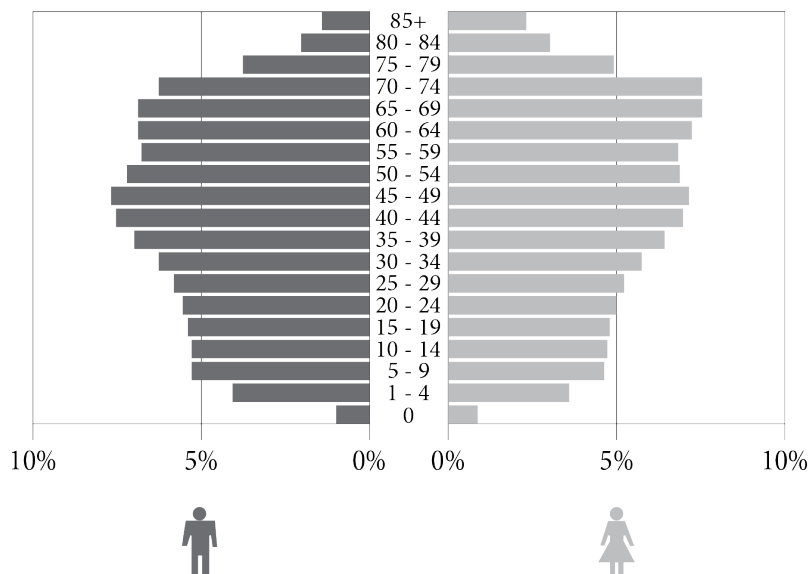
12. Fesd be a megfelelő mezőben lévő köröcskét úgy, hogy ezáltal összekötöd a tótipust a medence kialakulásának módjával!

	tektonikus	karszt	eolikus
A karsztterületek mélyedéseinek víz általi feltöltésével alakulnak ki.	<input type="radio"/>	<input type="radio"/>	<input type="radio"/>
A törésvonalak mentén kialakult mélyedéseket feltölti a víz.	<input type="radio"/>	<input type="radio"/>	<input type="radio"/>
Szél által kialakított mélyedésekben jön létre.	<input type="radio"/>	<input type="radio"/>	<input type="radio"/>

13. A felsorolt államok közül melyik nem tagja az Európai Uniónak?
Fesd be a helyes válasz előtti köröcskét!

☐ Bulgária
☐ Belgium
☐ Svájc
☐ Spanyolország

14. Milyen jellemzői vannak Szerbia képen látható korfájának?



Fesd be a helyes válasz előtti köröcskét!

- ☐ az idős népesség túlsúlya a fiatal népességgel szemben
- ☐ a népesség legnagyobb hányada a 30-34 éves korcsoportba tartozik
- ☐ a fiatal népesség legmagasabb aránya
- ☐ a nők férfiakkal viszonyított alacsonyabb aránya a 80-84 éves korcsoportban

15. Melyik folyó vájta ki az Ovčar-Kablar-hegysorozot?

Fesd be a helyes válasz előtti köröcskét!

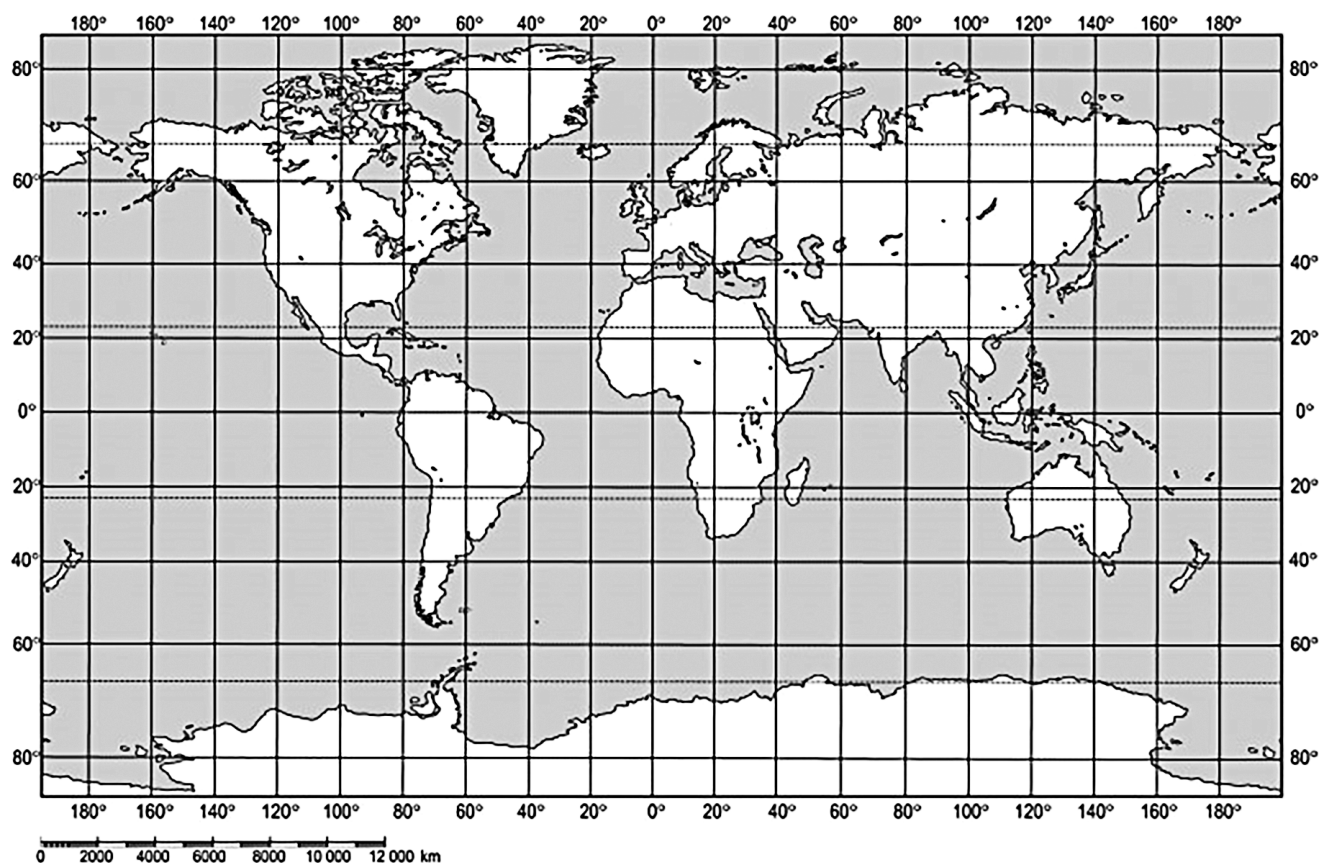
- ☐ Nagy-Morava
- ☐ Déli-Morava
- ☐ Nyugati-Morava
- ☐ Binačka Morava

16. Ázsia melyik része rendelkezik a legtagoltabb partvonallal?

Fesd be a helyes válasz előtti köröcskét!

- ☐ Délnyugat-Ázsia
- ☐ Közép-Ázsia
- ☐ Dél-Ázsia
- ☐ Délkelet-Ázsia

17. Melyik óceán területén található a következő koordinátákkal rendelkező pont: é.f.sz. 30°, ny.f.h. 30°?



Fesd be a helyes válasz előtti köröcskét!

- ☐ Északi-sarki-óceán ☐ Atlanti-óceán ☐ Indiai-óceán ☐ Csendes-óceán

18. Loznicán vagy, a Jovan Cvijić-napok rendezvényen. Egy kirándulás során melyik közeli gyógyfürdőt látogatnád meg?
Fesd be a helyes válasz előtti köröcskét!

- ☐ Vrdnik ☐ Banja Koviljača ☐ Sokobanja ☐ Vrnjačka Banja

19. Mely államok területe található részben a Pannon-alföld területén?

Fesd be a helyes válaszok előtti **köröcskéket**!

- ☐ Görögország ☐ Bulgária ☐ Horvátország ☐ Albánia ☐ Szlovénia

20. Angolszász-Amerika leghosszabb folyója. Saint Louis városánál egyesül a Missourival. Észak-déli irányba folyik a Belső-síkság területén keresztül. A Mexikói-öbölbe torkollik, hatalmas deltatorkolatot formálva.
Melyik folyóról van szó?

Fesd be a helyes válasz előtti köröcskét!

- ☐ Mississippi ☐ Mackenzie ☐ Mekong ☐ Murray

ÜRES OLDAL



Szerb Köztársaság
OKTATÁSI MINISZTERIUM
OKTATÁSI ÉS NEVELÉSI
MINŐSÉGELLENŐRZŐ INTÉZET

AZ ISKOLA PÉLDÁNYA

IDERAGASZTANI AZ AZONOSÍTÓ
MATICÁT

FELADATOK AZ ÁLTALÁNOS ISKOLAI OKTATÁS ÉS NEVELÉS ZÁRÓVIZSGÁJÁRA

TESZT

FÖLDRAJZ

AZONOSÍTÓ NYOMTATVÁNY

A TANULÓ UTÓNEVE, EGYIK SZÜLŐ/TÖRVÉNYES KÉPVISELŐ UTÓNEVE, A TANULÓ VEZETÉKNEVE

A TANULÓ AZONOSÍTÓ SZÁMA

--	--	--	--	--	--	--	--	--	--

ÁLTALÁNOS ISKOLA _____

HELYSÉG _____

KÖZSÉG _____

AZ ÜGYELETES TANÁR ALÁÍRÁSA